


7 problèmes par semaine




Semaine 29

14 J'achète 10 fusées d'artifice de 3 couleurs différentes. Je les tire l'une après l'autre sans répéter les 2 couleurs précédentes. Combien de feux envisageables ?

15 Combien y a-t-il de nombres de 3 chiffres qui sont les mêmes lus de droite à gauche et de gauche à droite ?

16



— Produit : 0
— Produit : 6
— Produit : 0

— Somme : 2
— Somme : 3
— Produit : 1

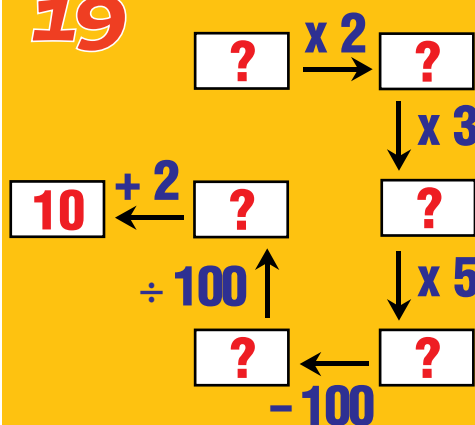
17 Dans ce cadre on voit mots.

(Compléter la phrase écrite en blanc par un nombre écrit en lettres.)

18

Combien de façons différentes de monter un escalier de 10 marches avec des pas de 1 ou 2 marches ?

19



20

Pour qui a-t-on l'habitude de dire 18 au lieu de 1,5 et 9 au lieu de 0,75 ?

